

Государственная (итоговая) аттестация 2012 года (в новой форме)  
по ФИЗИКЕ обучающихся, освоивших основные общеобразовательные  
программы

**Демонстрационный вариант**  
контрольных измерительных материалов для проведения  
в 2012 году государственной (итоговой) аттестации  
(в новой форме) по ФИЗИКЕ обучающихся, освоивших  
основные общеобразовательные программы основного  
общего образования

подготовлен Федеральным государственным научным учреждением  
«ФЕДЕРАЛЬНЫЙ ИНСТИТУТ ПЕДАГОГИЧЕСКИХ ИЗМЕРЕНИЙ»

**Демонстрационный вариант**  
контрольных измерительных материалов для проведения в 2012 году  
государственной (итоговой) аттестации (в новой форме) по ФИЗИКЕ  
обучающихся, освоивших основные общеобразовательные программы  
основного общего образования

**Пояснение к демонстрационному варианту**

При ознакомлении с демонстрационным вариантом 2012 г. следует иметь в виду, что задания, включённые в демонстрационный вариант, не отражают всех элементов содержания, которые будут проверяться с помощью вариантов КИМ в 2012 г. Полный перечень элементов содержания, которые могут контролироваться на экзамене 2012 г., приведён в кодификаторе элементов содержания экзаменационной работы для выпускников IX классов общеобразовательных учреждений по физике, размещённом на сайте: [www.fipi.ru](http://www.fipi.ru).

Демонстрационный вариант предназначен для того, чтобы дать возможность любому участнику экзамена и широкой общественности составить представление о структуре экзаменационной работы, числе и форме заданий, а также об их уровне сложности. Приведённые критерии оценивания выполнения заданий с развёрнутым ответом, включённые в демонстрационный вариант экзаменационной работы, позволят составить представление о требованиях к полноте и правильности записи развёрнутого ответа.

Эти сведения дают выпускникам возможность выработать стратегию подготовки к сдаче экзамена по физике.

**Демонстрационный вариант 2012 года****Инструкция по выполнению работы**

На выполнение экзаменационной работы по физике отводится 3 часа (180 минут). Работа состоит из 3-х частей и включает 25 заданий.

Часть 1 содержит 18 заданий (1–18). К каждому заданию приводится 4 варианта ответа, из которых только 1 верный. При выполнении задания части 1 обведите кружком номер выбранного ответа в экзаменационной работе. Если вы обвели не тот номер, то зачеркните этот обведённый номер крестиком, а затем обведите номер правильного ответа.

Часть 2 включает 3 задания с кратким ответом (19–21). При выполнении заданий части 2 ответ записывается в экзаменационной работе в отведённом для этого месте. В случае записи неверного ответа зачеркните его и запишите рядом новый.

Часть 3 содержит 4 задания (22–25), на которые следует дать развёрнутый ответ. Ответы на задания части 3 записываются на отдельном листе. Задание 22 экспериментальное, и для его выполнения необходимо воспользоваться лабораторным оборудованием.

При вычислениях разрешается использовать непрограммируемый калькулятор.

Советуем выполнять задания в том порядке, в котором они даны. С целью экономии времени пропускайте задание, которое не удаётся выполнить сразу, и переходите к следующему. Если после выполнения всей работы у вас останется время, то можно вернуться к пропущенным заданиям.

Баллы, полученные вами за все выполненные задания, суммируются. Постарайтесь выполнить как можно больше заданий и набрать как можно большее количество баллов.

***Желаем успеха!***

Ниже приведены справочные данные, которые могут понадобиться Вам при выполнении работы.

<b>Десятичные приставки</b>		
Наименование	Обозначение	Множитель
гига	Г	$10^9$
мега	М	$10^6$
кило	к	$10^3$
гекто	г	$10^2$
санти	с	$10^{-2}$
милли	м	$10^{-3}$
микро	мк	$10^{-6}$
нано	н	$10^{-9}$

<b>Константы</b>	
ускорение свободного падения на Земле	$g = 10 \frac{\text{М}}{\text{с}^2}$
гравитационная постоянная	$G = 6,7 \cdot 10^{-11} \frac{\text{Н} \cdot \text{м}^2}{\text{кг}^2}$
скорость света в вакууме	$c = 3 \cdot 10^8 \frac{\text{М}}{\text{с}}$
элементарный электрический заряд	$e = 1,6 \cdot 10^{-19} \text{ Кл}$

<b>Плотность</b>			
бензин	$710 \frac{\text{кг}}{\text{м}^3}$	древесина (сосна)	$400 \frac{\text{кг}}{\text{м}^3}$
спирт	$800 \frac{\text{кг}}{\text{м}^3}$	парафин	$900 \frac{\text{кг}}{\text{м}^3}$
керосин	$800 \frac{\text{кг}}{\text{м}^3}$	алюминий	$2700 \frac{\text{кг}}{\text{м}^3}$
масло машинное	$900 \frac{\text{кг}}{\text{м}^3}$	мрамор	$2700 \frac{\text{кг}}{\text{м}^3}$
вода	$1000 \frac{\text{кг}}{\text{м}^3}$	цинк	$7100 \frac{\text{кг}}{\text{м}^3}$
молоко цельное	$1030 \frac{\text{кг}}{\text{м}^3}$	сталь, железо	$7800 \frac{\text{кг}}{\text{м}^3}$
вода морская	$1030 \frac{\text{кг}}{\text{м}^3}$	медь	$8900 \frac{\text{кг}}{\text{м}^3}$
ртуть	$13\,600 \frac{\text{кг}}{\text{м}^3}$	свинец	$11\,350 \frac{\text{кг}}{\text{м}^3}$

Удельная			
теплоёмкость воды	$4200 \frac{\text{Дж}}{\text{кг} \cdot ^\circ\text{C}}$	теплота парообразования воды	$2,3 \cdot 10^6 \frac{\text{Дж}}{\text{кг}}$
теплоёмкость спирта	$2400 \frac{\text{Дж}}{\text{кг} \cdot ^\circ\text{C}}$	теплота парообразования спирта	$9,0 \cdot 10^5 \frac{\text{Дж}}{\text{кг}}$
теплоёмкость льда	$2100 \frac{\text{Дж}}{\text{кг} \cdot ^\circ\text{C}}$	теплота плавления свинца	$2,5 \cdot 10^4 \frac{\text{Дж}}{\text{кг}}$
теплоёмкость алюминия	$920 \frac{\text{Дж}}{\text{кг} \cdot ^\circ\text{C}}$	теплота плавления стали	$7,8 \cdot 10^4 \frac{\text{Дж}}{\text{кг}}$
теплоёмкость стали	$500 \frac{\text{Дж}}{\text{кг} \cdot ^\circ\text{C}}$	теплота плавления олова	$5,9 \cdot 10^4 \frac{\text{Дж}}{\text{кг}}$
теплоёмкость цинка	$400 \frac{\text{Дж}}{\text{кг} \cdot ^\circ\text{C}}$	теплота плавления льда	$3,3 \cdot 10^5 \frac{\text{Дж}}{\text{кг}}$
теплоёмкость меди	$400 \frac{\text{Дж}}{\text{кг} \cdot ^\circ\text{C}}$	теплота сгорания спирта	$2,9 \cdot 10^7 \frac{\text{Дж}}{\text{кг}}$
теплоёмкость олова	$230 \frac{\text{Дж}}{\text{кг} \cdot ^\circ\text{C}}$	теплота сгорания керосина	$4,6 \cdot 10^7 \frac{\text{Дж}}{\text{кг}}$
теплоёмкость свинца	$130 \frac{\text{Дж}}{\text{кг} \cdot ^\circ\text{C}}$	теплота сгорания бензина	$4,6 \cdot 10^7 \frac{\text{Дж}}{\text{кг}}$
теплоёмкость бронзы	$420 \frac{\text{Дж}}{\text{кг} \cdot ^\circ\text{C}}$		

Температура плавления		Температура кипения	
свинца	327 °C	воды	100 °C
олова	232 °C	спирта	78 °C
льда	0 °C		

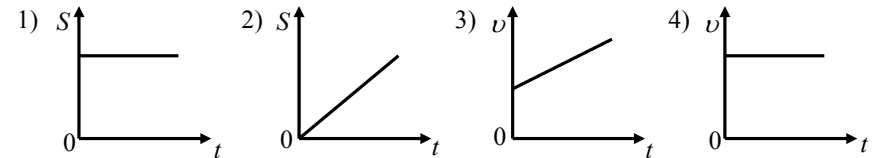
Удельное электрическое сопротивление, $\frac{\text{Ом} \cdot \text{мм}^2}{\text{м}}$ (при 20 °C)			
серебро	0,016	никелин	0,4
медь	0,017	нихром (сплав)	1,1
алюминий	0,028	фехраль	1,2
железо	0,10		

**Нормальные условия:** давление –  $10^5$  Па, температура – 0 °C.

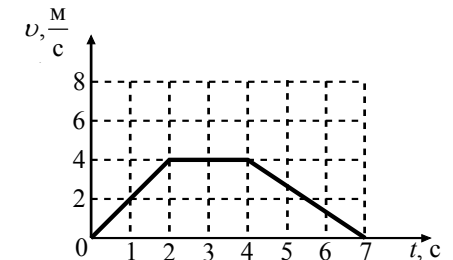
**Часть 1**

*К каждому из заданий 1–18 даны 4 варианта ответа, из которых только 1 правильный. Номер этого ответа обведите кружком.*

**1** На рисунке приведены графики зависимости пути и скорости тела от времени. Какой график соответствует равноускоренному движению?



**2** На рисунке представлен график зависимости скорости автомобиля, движущегося прямолинейно по дороге, от времени. В какой промежуток времени равнодействующая всех сил, действующих на автомобиль, равна нулю?



- 1) от 0 до 2 с
- 2) от 2 до 4 с
- 3) от 4 до 7 с
- 4) от 0 до 7 с

**3** Снаряд, импульс которого  $\vec{p}$  был направлен вертикально вверх, разорвался на два осколка. Импульс одного осколка  $\vec{p}_1$  в момент взрыва был направлен горизонтально (рис. 1). Какое направление имел импульс  $\vec{p}_2$  второго осколка (рис. 2)?

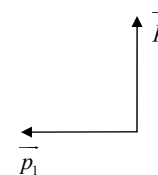


Рис. 1

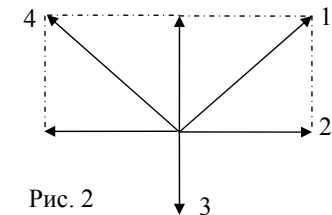
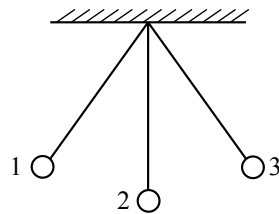


Рис. 2

- 1) 1
- 2) 2
- 3) 3
- 4) 4

4 Математический маятник колеблется между положениями 1 и 3 (см. рисунок). В положении 1



- 1) кинетическая энергия маятника максимальна, потенциальная энергия минимальна
- 2) кинетическая энергия маятника равна нулю, потенциальная энергия максимальна
- 3) кинетическая и потенциальная энергия маятника максимальны
- 4) кинетическая и потенциальная энергия маятника минимальны

5 Алюминиевый шар, подвешенный на нити, опущен в крепкий раствор поваренной соли. Затем шар перенесли из раствора поваренной соли в дистиллированную воду. При этом сила натяжения нити

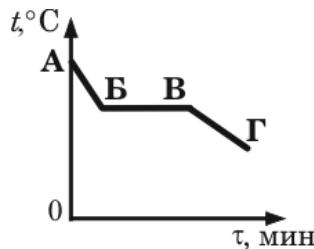
- 1) не изменится
- 2) увеличится
- 3) уменьшится
- 4) может остаться неизменной или измениться в зависимости от объёма шара

6 Деревянную коробку массой 10 кг равномерно тянут по горизонтальной деревянной доске с помощью горизонтальной пружины. Удлинение пружины – 0,2 м. Коэффициент трения равен 0,4. Чему равна жёсткость пружины?

- 1)  $20 \frac{\text{Н}}{\text{м}}$
- 2)  $80 \frac{\text{Н}}{\text{м}}$
- 3)  $200 \frac{\text{Н}}{\text{м}}$
- 4)  $800 \frac{\text{Н}}{\text{м}}$

7 На рисунке приведён график зависимости температуры некоторого вещества от времени. Первоначально вещество находилось в жидком состоянии. Какая точка графика соответствует началу процесса отвердевания вещества?


- 1) А
- 2) Б
- 3) В
- 4) Г



8 В сосуд налили 1 кг воды при температуре 90 °С. Чему равна масса воды, взятой при 30 °С, которую нужно налить в сосуд, чтобы в нём установилась температура воды, равная 50 °С? Потери энергии на нагревание сосуда и окружающего воздуха пренебречь.

- 1) 1 кг
- 2) 1,8 кг
- 3) 2 кг
- 4) 3 кг

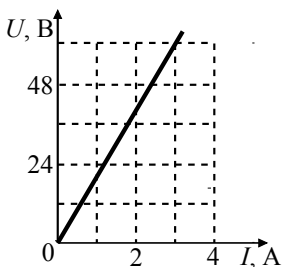
9 На рисунке изображены точечные заряженные тела. Тела А и Б имеют одинаковый отрицательный заряд, а тело В – равный им по модулю положительный заряд. Каковы модуль и направление равнодействующей силы, действующей на заряд Б со стороны зарядов А и В?



- 1)  $F = F_A + F_B$ ; направление 1
- 2)  $F = F_A + F_B$ ; направление 2
- 3)  $F = F_A - F_B$ ; направление 1
- 4)  $F = F_A - F_B$ ; направление 2

10 На рисунке представлен график зависимости напряжения  $U$  на концах резистора от силы тока  $I$ , текущего через него. Сопротивление  $R$  резистора равно

- 1) 0,04 Ом
- 2) 0,05 Ом
- 3) 20 Ом
- 4) 24 Ом



11 В катушку, соединённую с гальванометром, вносят магнит. Сила индукционного тока зависит

- А) от скорости перемещения магнита
- Б) от того, каким полюсом вносят магнит в катушку

Правильный ответ –

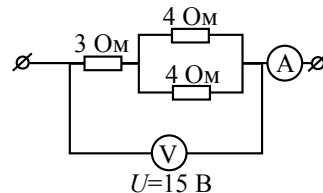
- 1) только А
- 2) только Б
- 3) и А, и Б
- 4) ни А, ни Б

12 Чему равен угол падения луча на границе вода – воздух, если известно, что угол преломления равен углу падения?

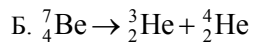
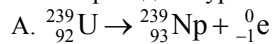
- 1) 90°      2) 60°      3) 45°      4) 0°

13 Какую силу тока показывает амперметр?

- 1) 0,67 А  
2) 2,14 А  
3) 3 А  
4) 5 А



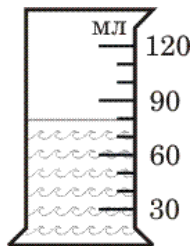
14 Ниже приведены уравнения двух ядерных реакций. Реакция  $\alpha$ -распада –



- 1) только А      2) только Б      3) и А, и Б      4) ни А, ни Б

15 В мензурку налита вода. Укажите значение объёма воды, учитывая, что погрешность измерения равна половине цены деления.

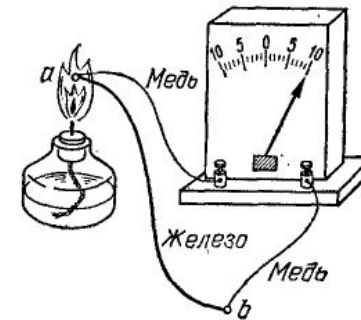
- 1) 70 мл  
2) (70±15) мл  
3) (80±5) мл  
4) (80±15) мл



**Прочитайте текст и выполните задания 16–18.**

### Термоэлементы

Рассмотрим цепь, составленную из проводников, изготовленных из разных металлов (см. рисунок). Если места спаев металлов находятся при одной температуре, то тока в цепи не наблюдается. Положение станет совершенно иным, если мы нагреем какой-либо из спаев, например спай *a*. В этом случае гальванометр показывает наличие в цепи электрического тока, протекающего всё время, пока существует разность температур между спаями *a* и *b*.



Цепь, состоящая из железного и двух медных проводников и гальванометра

Величина протекаемого тока приблизительно пропорциональна разности температур спаев. Направление тока зависит от того, какой из спаев находится на участке цепи, где более высокая температура. Если спай *a* не нагревать, а охлаждать (поместить, например, в сухой лёд), то ток потечёт в обратном направлении.

Описанное явление было открыто в 1821 г. немецким физиком Зеебеком и получило название термоэлектричества, а всякую комбинацию проводников из разных металлов, образующих замкнутую цепь, называют термоэлементом.

Важным применением металлических термоэлементов является их использование для измерения температуры. Термоэлементы, используемые для измерения температуры (так называемые термопары), обладают перед обычными жидкостными термометрами рядом преимуществ: термопары можно использовать для измерения как очень высоких (до 2000 °С), так и очень низких температур. Более того, термопары дают более высокую точность измерения температуры и гораздо быстрее реагируют на изменение температуры.

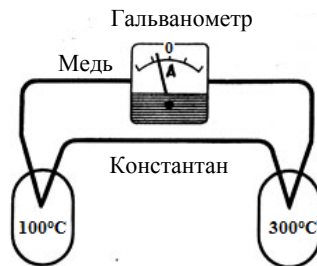
16 Термоэлемент – это

- 1) замкнутая цепь, состоящая из комбинации проводников из разных металлов
- 2) замкнутая цепь, состоящая из комбинации металлических проводников и гальванометра
- 3) явление протекания электрического тока в замкнутой цепи, состоящей из разных металлов
- 4) явление протекания электрического тока в замкнутой цепи, состоящей из разных металлов, при возникновении разности температур спаев

17 В термоэлементе происходит преобразование

- 1) химической энергии в энергию электрического тока
- 2) энергии электрического тока в химическую энергию
- 3) внутренней энергии в энергию электрического тока
- 4) энергии электрического тока во внутреннюю энергию

18 При нагревании спаев термопары из меди и константана до температур 100 °С и 300 °С через гальванометр проходит электрический ток (см. рисунок).



На каком из рисунков показания гальванометра правильно отражают направление и величину силы тока для новой разности температур?

1) 3) 2) 4)

Часть 2

При выполнении заданий с кратким ответом (задания 19–21) необходимо записать ответ в указанном в тексте задания месте.

Ответом к каждому из заданий 19–21 будет некоторая последовательность цифр. Впишите в таблицу внизу задания цифры – номера выбранных ответов. Каждую цифру пишите в отдельной клеточке. Цифры в ответах к заданиям 19–20 могут повторяться.

19 Для каждого физического понятия из первого столбца подберите соответствующий пример из второго столбца. Запишите в таблицу выбранные цифры под соответствующими буквами.

ФИЗИЧЕСКИЕ ПОНЯТИЯ	ПРИМЕРЫ
А) физическая величина	1) кристаллизация
Б) единица физической величины	2) паскаль
В) прибор для измерения физической величины	3) кипение
	4) температура
	5) мензурка

Ответ:

А	Б	В

20 В процессе трения о шёлк стеклянная линейка приобрела положительный заряд. Как при этом изменилось количество заряженных частиц на линейке и шёлке при условии, что обмена атомами при трении не происходило? Установите соответствие между физическими величинами и их возможными изменениями при этом. Запишите в таблицу выбранные цифры под соответствующими буквами. Цифры в ответе могут повторяться.

ФИЗИЧЕСКАЯ ВЕЛИЧИНА	ХАРАКТЕР ИЗМЕНЕНИЯ
А) количество протонов на шёлке	1) увеличилось
Б) количество протонов на стеклянной линейке	2) уменьшилось
В) количество электронов на шёлке	3) не изменилось

Ответ:

А	Б	В

- 21 В справочнике физических свойств различных материалов представлена следующая таблица.

Таблица

Вещество	Плотность в твёрдом состоянии, $\frac{\text{г}}{\text{см}^3}$	Удельное электрическое сопротивление (при 20 °С),
		$\frac{\text{Ом} \cdot \text{мм}^2}{\text{м}}$
алюминий	2,7	0,028
константан (сплав)	8,8	0,5
латунь	8,4	0,07
медь	8,9	0,017
никелин (сплав)	8,8	0,4
нихром (сплав)	8,4	1,1

Используя данные таблицы, выберите из предложенного перечня *два* верных утверждения. Укажите их номера.

- 1) При равных размерах проводник из алюминия будет иметь меньшую массу и большее электрическое сопротивление по сравнению с проводником из меди.
- 2) Проводники из нихрома и латуни при одинаковых размерах будут иметь одинаковые электрические сопротивления.
- 3) Проводники из константана и никелина при одинаковых размерах будут иметь разные массы.
- 4) При замене никелиновой спирали электроплитки на нихромовую такого же размера электрическое сопротивление спирали уменьшится.
- 5) При равной площади поперечного сечения проводник из константана длиной 4 м будет иметь такое же электрическое сопротивление, что и проводник из никелина длиной 5 м.

Ответ:

## Часть 3

Для ответа на задания части 3 (задания 22–25) используйте отдельный лист. Запишите сначала номер задания, а затем ответ на него.

- 22 Используя штатив с муфтой и лапкой, пружину, динамометр, линейку и набор из трёх грузов, соберите экспериментальную установку для исследования зависимости силы упругости, возникающей в пружине, от степени растяжения пружины. Определите растяжение пружины, подвешивая к ней поочередно один, два и три груза. Для определения веса грузов воспользуйтесь динамометром.
- В бланке ответов:
- 1) сделайте рисунок экспериментальной установки;
  - 2) укажите результаты измерения веса грузов и удлинения пружины для трёх случаев в виде таблицы (или графика);
  - 3) сформулируйте вывод о зависимости силы упругости, возникающей в пружине, от степени растяжения пружины.

*Задание 23 представляет собой вопрос, на который необходимо дать письменный ответ. Полный ответ должен включать в себя не только ответ на вопрос, но и его развёрнутое, логически связанное обоснование.*

- 23 Можно ли набрать жидкость в шприц, находясь в космическом корабле в состоянии невесомости? Ответ поясните.

*Для заданий 24–25 необходимо записать полное решение, включающее запись кратко условия задачи (Дано), запись формул, применение которых необходимо и достаточно для решения задачи, а также математические преобразования и расчёты, приводящие к числовому ответу.*

- 24 Нагреватель включён последовательно с реостатом сопротивлением 7,5 Ом в сеть с напряжением 220 В. Каково сопротивление нагревателя, если мощность электрического тока в реостате составляет 480 Вт?
- 25 Ударная часть молота массой 10 т свободно падает с высоты 2,5 м на стальную деталь массой 200 кг. На сколько градусов нагрелась деталь, если молот сделал 32 удара? На нагревание расходуется 25% энергии молота.

## Система оценивания экзаменационной работы по физике

## Часть 1

За верное выполнение каждого из заданий 1–18 выставляется по 1 баллу.

№ задания	Ответ	№ задания	Ответ	№ задания	Ответ
1	3	7	2	13	3
2	2	8	3	14	2
3	1	9	2	15	3
4	2	10	3	16	1
5	2	11	1	17	3
6	3	12	4	18	4

## Часть 2

Каждое из заданий 19, 20 и 21 оценивается 2 баллами, если верно указаны все элементы ответа, 1 баллом, если правильно указан хотя бы один элемент ответа, и 0 баллов, если ответ не содержит элементов правильного ответа.

№ задания	Ответ
19	425
20	331
21	15 или 51

## Часть 3

КРИТЕРИИ ОЦЕНКИ ВЫПОЛНЕНИЯ ЗАДАНИЙ  
С РАЗВЁРНУТЫМ ОТВЕТОМ

22

Используя штатив с муфтой и лапкой, пружину, динамометр, линейку и набор из трёх грузов, соберите экспериментальную установку для исследования зависимости силы упругости, возникающей в пружине, от степени растяжения пружины. Определите растяжение пружины, подвешивая к ней поочередно один, два и три груза. Для определения веса грузов воспользуйтесь динамометром.

В бланке ответов:

- сделайте рисунок экспериментальной установки;
- укажите результаты измерения веса грузов и удлинения пружины для трёх случаев в виде таблицы (или графика);
- сформулируйте вывод о зависимости силы упругости, возникающей в пружине, от степени растяжения пружины.

## Характеристика оборудования

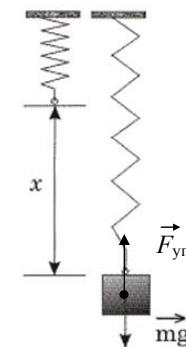
При выполнении задания используется комплект оборудования № 3 в следующем составе:

- штатив лабораторный с муфтой и лапкой;
- пружина жёсткостью  $(40 \pm 1) \frac{\text{Н}}{\text{м}}$ ;
- три груза массой по  $(100 \pm 2)$  г;
- динамометр школьный с пределом измерения 4 Н (погрешность – 0,1 Н);
- линейка длиной 20–30 см с миллиметровыми делениями.

**Внимание!** При замене какого-либо элемента оборудования на аналогичное с другими характеристиками необходимо внести соответствующие изменения в образец выполнения задания.

## Образец возможного выполнения

1. Схема экспериментальной установки: 2.



№	$F_{\text{упр}} = mg = P \text{ (Н)}$	$x \text{ (м)}$
1	1	0,025
2	2	0,05
3	3	0,075

3. Вывод: при увеличении растяжения пружины сила упругости, возникающая в пружине, также увеличивается.

## Указание экспертам

- Измерение удлинения пружины считается верным, если его значение попадает в интервал  $x \pm 2$  (мм) к указанным в таблице значениям  $x$  (погрешность определяется главным образом погрешностью отсчёта). Измерение силы считается верным, если её значение попадает в интервал  $P \pm 0,1$  (Н) к указанным в таблице значениям  $P$ .
- Наличие вывода о функциональной (прямой пропорциональной) зависимости между силой упругости и растяжением пружины не является обязательным, достаточным считается вывод о качественном изменении силы упругости при изменении степени деформации.



Содержание критерия	Баллы
Полностью правильное выполнение задания, включающее: 1) схематичный рисунок экспериментальной установки; 2) правильно записанные результаты прямых измерений (в данном случае удлинения пружины и веса грузов для трёх измерений); 3) сформулированный правильный вывод	4
Приведены все элементы правильного ответа 1–3, но допущена ошибка при переводе одной из измеренных величин в СИ при заполнении таблицы (или при построении графика); ИЛИ допущена ошибка в схематичном рисунке экспериментальной установки, или рисунок отсутствует	3
Сделан рисунок экспериментальной установки, правильно приведены результаты прямых измерений величин, но не сформулирован вывод. ИЛИ Сделан рисунок экспериментальной установки, сформулирован вывод, но в одном из экспериментов присутствует ошибка в прямых измерениях	2
Записаны только правильные результаты прямых измерений. ИЛИ Сделан рисунок экспериментальной установки и частично приведены результаты верных прямых измерений	1
Все случаи выполнения, которые не соответствуют вышеуказанным критериям выставления 1, 2, 3 или 4 баллов. Разрозненные записи. Отсутствие попыток выполнения задания	0
<i>Максимальный балл</i>	4

- 23** Можно ли набрать жидкость в шприц, находясь в космическом корабле в состоянии невесомости? Ответ поясните.

1. Ответ: можно.
2. Объяснение: при выдвижении поршня из шприца под ним возникает разрежение. Поскольку внутри космического корабля поддерживается постоянное давление, возникает разность внешнего давления и давления внутри шприца. Под действием внешнего давления жидкость войдёт в шприц.

Содержание критерия	Баллы
Представлен правильный ответ на вопрос, и приведено достаточное обоснование, не содержащее ошибок	2

Представлен правильный ответ на поставленный вопрос, но его обоснование не является достаточным, хотя содержит оба элемента правильного ответа или указание на физические явления (законы), относящиеся к обсуждаемому вопросу. ИЛИ Представлены корректные рассуждения, приводящие к правильному ответу, но ответ явно не сформулирован	1
Представлены общие рассуждения, не относящиеся к ответу на поставленный вопрос. ИЛИ Ответ на вопрос неверен, независимо от того, что рассуждения правильны, или неверны, или отсутствуют	0
<i>Максимальный балл</i>	2

- 24** Нагреватель включён последовательно с реостатом сопротивлением 7,5 Ом в сеть с напряжением 220 В. Каково сопротивление нагревателя, если мощность электрического тока в реостате составляет 480 Вт?

<i>Дано:</i> $R_1 = 7,5 \text{ Ом}$ $P_1 = 480 \text{ Вт}$ $U = 220 \text{ В}$	$P_1 = \frac{U_1^2}{R_1}$ $U_1 = \sqrt{P_1 \cdot R_1}, U_1 = 60 \text{ В}$ $U_2 = U - U_1; U_2 = 160 \text{ В}$ $I_2 = I_1 = \frac{U_1}{R_1}; I_2 = 8 \text{ А}$ $R_2 = \frac{U_2}{I_2}; R_2 = 20 \text{ Ом}$
$R_2 = ?$	<i>Ответ:</i> $R_2 = 20 \text{ Ом}$

Содержание критерия	Баллы
Приведено полное правильное решение, включающее следующие элементы: 1) верно записано краткое условие задачи; 2) записаны уравнения и формулы, <u>применение которых необходимо и достаточно</u> для решения задачи выбранным способом (в данном решении: формулы для силы тока и напряжения при последовательном соединении проводников, закон Ома для участка цепи, формула для мощности электрического тока); 3) выполнены необходимые математические преобразования и расчёты, приводящие к правильному числовому ответу, и представлен ответ. При этом допускается решение «по частям» (с промежуточными вычислениями)	3

Правильно записаны необходимые формулы, проведены вычисления, и получен ответ (верный или неверный), но допущена ошибка в записи краткого условия или переводе единиц в СИ. ИЛИ Представлено правильное решение только в общем виде, без каких-либо числовых расчётов. ИЛИ Записаны уравнения и формулы, <u>применение которых необходимо и достаточно</u> для решения задачи выбранным способом, но в математических преобразованиях или вычислениях допущена ошибка	2
Записаны и использованы не все исходные формулы, необходимые для решения задачи. ИЛИ Записаны все исходные формулы, но в <b>одной</b> из них допущена ошибка	1
Все случаи решения, которые не соответствуют вышеуказанным критериям выставления оценок в 1, 2, 3 балла	0
<i>Максимальный балл</i>	
	3

- 25 Ударная часть молота массой 10 т свободно падает с высоты 2,5 м на стальную деталь массой 200 кг. На сколько градусов нагрелась деталь, если молот сделал 32 удара? На нагревание расходуется 25% энергии молота.

<i>Дано:</i>	
$M = 10\,000 \text{ кг}$	$\eta = \frac{Q}{E}$
$h = 2,5 \text{ м}$	$E = M \cdot g \cdot h \cdot n$
$m = 200 \text{ кг}$	$Q = c \cdot m (t_2 - t_1)$
$c = 500 \frac{\text{Дж} \cdot \text{кг}}{\text{°C}}$	$(t_2 - t_1) = \frac{M \cdot g \cdot h \cdot n \cdot \eta}{c \cdot m}$
$\eta = 25\% = 0,25$	
$n = 32$	
$(t_2 - t_1) = ?$	<i>Ответ:</i> $(t_2 - t_1) = 20 \text{ °C}$

<b>Содержание критерия</b>	<b>Баллы</b>
Приведено полное правильное решение, включающее следующие элементы: 1) верно записано краткое условие задачи; 2) записаны уравнения и формулы, <u>применение которых необходимо и достаточно</u> для решения задачи выбранным способом ( <i>в данном решении: закон сохранения энергии, формула для расчёта количества теплоты при нагревании, формула для расчёта механической потенциальной энергии</i> ); 3) выполнены необходимые математические преобразования и расчёты, приводящие к правильному числовому ответу, и представлен ответ. При этом допускается решение «по частям» (с промежуточными вычислениями)	3
Правильно записаны необходимые формулы, проведены вычисления, и получен ответ (верный или неверный), но допущена ошибка в записи краткого условия или переводе единиц в СИ. ИЛИ Представлено правильное решение только в общем виде, без каких-либо числовых расчётов. ИЛИ Записаны уравнения и формулы, <u>применение которых необходимо и достаточно</u> для решения задачи выбранным способом, но в математических преобразованиях или вычислениях допущена ошибка	2
Записаны и использованы не все исходные формулы, необходимые для решения задачи. ИЛИ Записаны все исходные формулы, но в <b>одной</b> из них допущена ошибка	1
Все случаи решения, которые не соответствуют вышеуказанным критериям выставления оценок в 1, 2, 3 балла	0
<i>Максимальный балл</i>	
	3